



読み取り、使おう！地図の情報

今から、地図について、
いっしょに学習しましょう。
では、パソコンをクリックして、
スタート！



📄 地図の歴史と役割

自分がいる
「位置」



自分の住む
「場所」の様子

大昔の人たちも、地図を生活に役立てていたそうですね。では、パソコンをクリックしてください。

粘土板に描かれた古代バビロニアの地図
(紀元前600年ごろ)



資料（航空写真）を読む

航空写真

では、地図のよさを感じてみましょう。

そのために、まず、航空写真をみて、福岡県教育センターがどのような場所にあるか読みとりましょう。

考えた人は、パソコンをクリックしてください。

福岡県教育センター

資料（航空写真）を読む

航空写真

周囲の山に生えている木は、おもにどのような種類でしょう？

福岡県教育センター

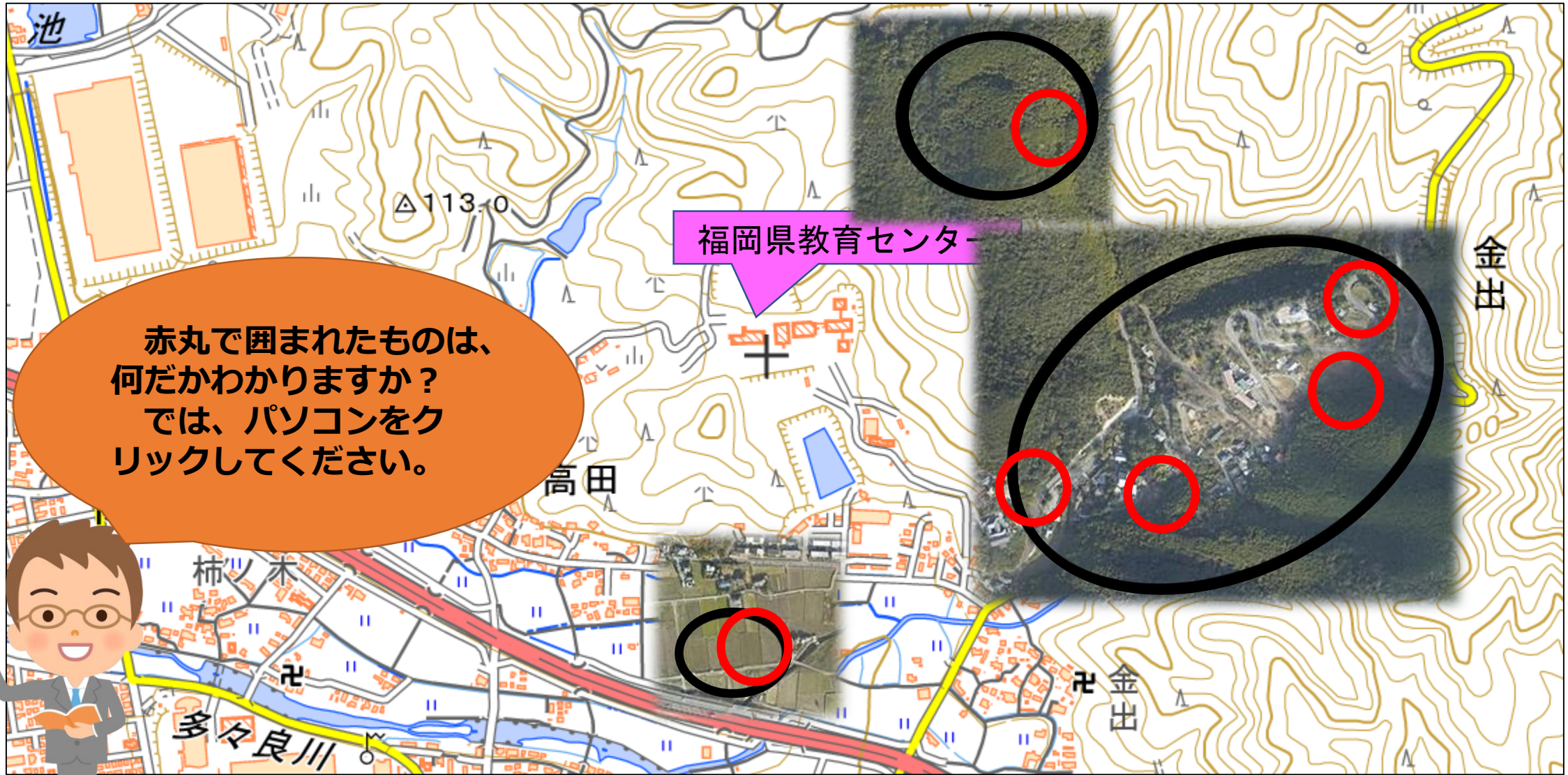
答えはわかりましたか？見えているのに、写真の情報だけで、正確に答えるのはむずかしいですよ。

では、パソコンをクリックしてください。

この地域の建物には、住宅以外に何があるでしょう？

この土地は、どのように利用されているでしょう？

地図のもつ役割



出典：国土地理院地図


地図記号がもつ意味



針葉樹林



田



寺院



それは地図記号です。地図は、写真からだけではわからない情報を、地図記号で示してくれる便利な道具です。

では、その他の地図記号について問題を出します。社会科の教科書（地図帳）を準備してから、パソコンをクリックしてください。



地図の読み取りにチャレンジ

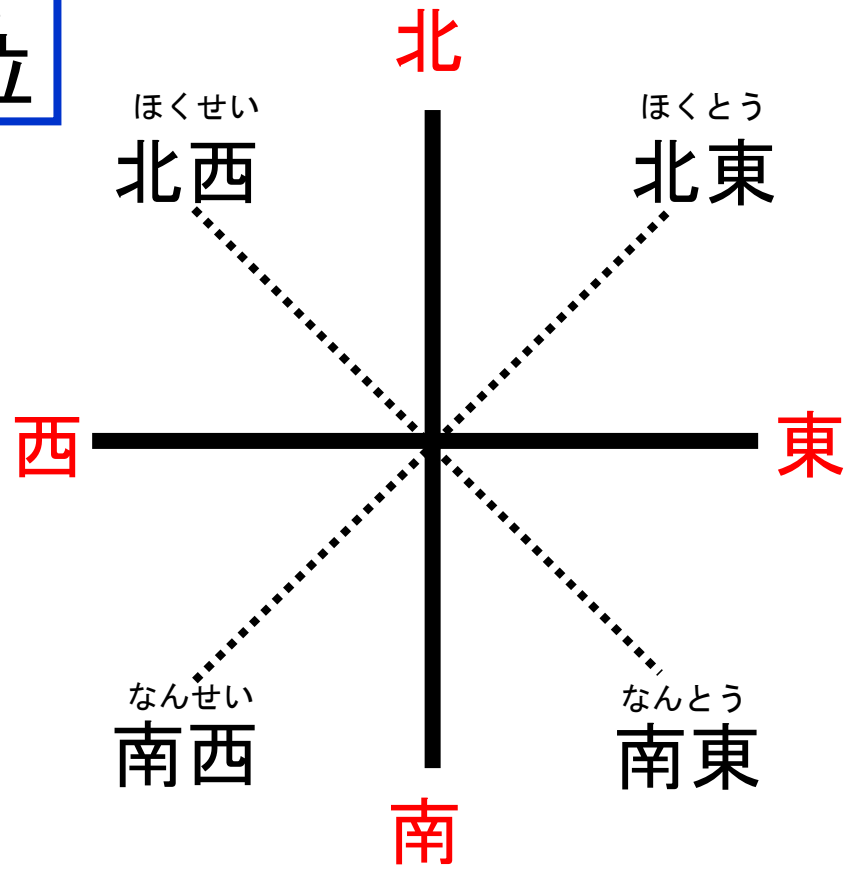


どうでしたか？わからない問題は、教科書を使って、もう一度復習しましょう！では、パソコンをクリックしてください。



地図の基本的なルール

ほうい
方位



地図は、上が北、下が南、右が東、左が西という基本的なルールでつくられています。では、パソコンをクリックしてください。



方位を使って説明する



このように、地図を使う際には、方位を使って説明するよう心がけてみましょう。
では、パソコンをクリックしてください

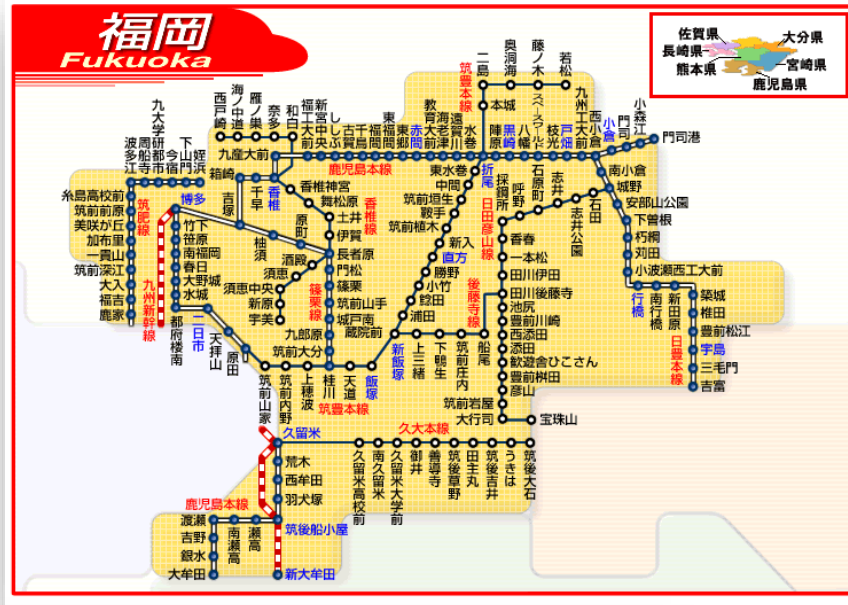
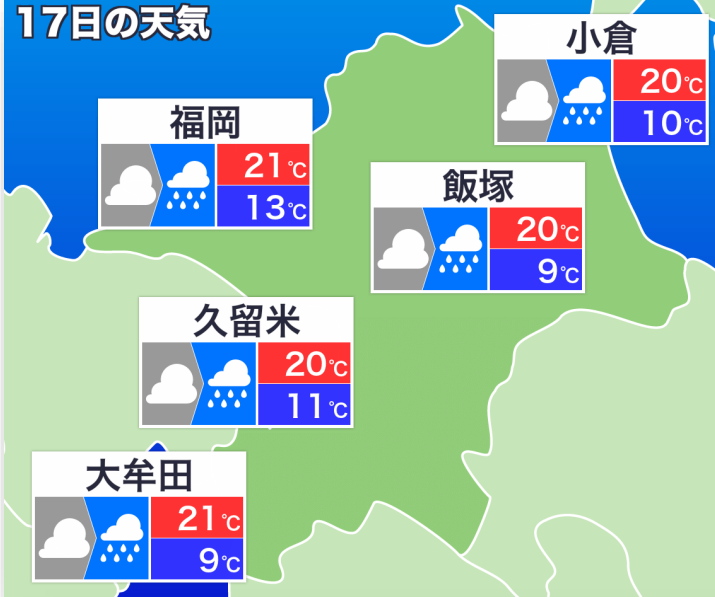
福岡県教育センター

福岡県教育センターの南側には、田があります。

福岡県教育センターの東側には、寺院がいくつもあります。

私たちの生活に身近な地図

17日の天気

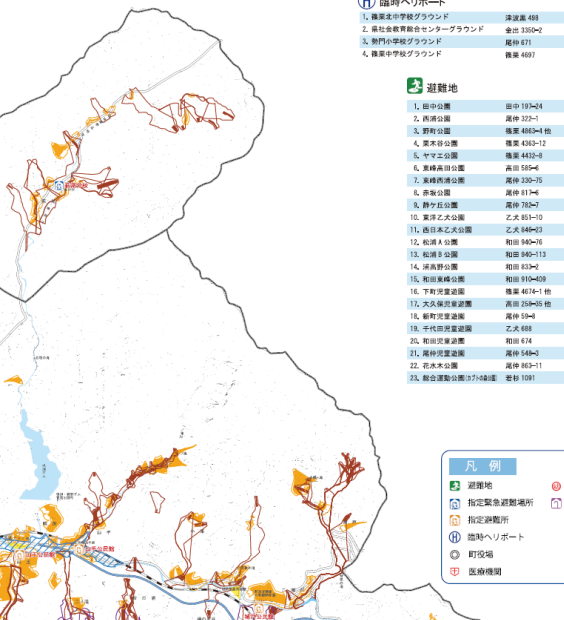


篠栗町 防災マップ HAZARD MAP

■ 防災マップとは

防災マップについて
この地図は、大規模な災害によって発生する土砂災害や河川の氾濫被害により被害が拡大するおそれのある地域を特定し、その危険性を示しています。
自治体から大規模な災害による被害や土砂災害が発生するおそれのある地域を特定して、その危険性を示しています。
この地図は、大規模な災害によって発生する土砂災害や河川の氾濫被害により被害が拡大するおそれのある地域を特定し、その危険性を示しています。
この地図は、大規模な災害によって発生する土砂災害や河川の氾濫被害により被害が拡大するおそれのある地域を特定し、その危険性を示しています。

- ### 避難時の心得
- いざという時、あわてず、冷静に
- 安全な避難経路を確認する
 - 非常退出品の事前準備
 - 避難の呼びかけに注意を
 - 動きやすい服装、2人以上での避難
 - 互いに注意
 - 車での避難は避けて



H 臨時ヘリポート

1. 篠栗中学校グラウンド 津波高 498
2. 篠栗社会教育センターグラウンド 金田 3350-2
3. 篠栗小学校グラウンド 篠栗 871
4. 篠栗中学校グラウンド 篠栗 4897

3 避難地

1. 篠栗公園 篠栗 133-44
2. 篠栗公園 篠栗 322-1
3. 野村公園 篠栗 486-4 他
4. 栗木谷公園 篠栗 436-12
5. ヤマエ公園 篠栗 443-8
6. 篠栗公園 篠栗 330-6
7. 美穂公園 篠栗 330-35
8. 篠栗公園 篠栗 11-4
9. 篠栗公園 篠栗 738-7
10. 篠栗公園 津波高 801-10
11. 篠栗公園 津波高 446-23
12. 松浦公園 和泉 840-16
13. 松浦公園 和泉 840-113
14. 高野公園 和泉 832-7
15. 和泉公園 和泉 310-208
16. 下野公園 高野 467-1 他
17. 下野公園 高野 258-25 他
18. 下野公園 高野 139-4
19. 下野公園 津波高 418
20. 和泉公園 和泉 474
21. 下野公園 高野 148-3
22. 下野公園 高野 483-11
23. 下野公園 高野 1091

指定緊急避難場所

1. 篠栗小学校 篠栗 5026 947-0061
2. 篠栗分館 篠栗 440-1 947-4167
3. 篠栗中学校 篠栗 871 947-6538
4. 篠栗小学校 篠栗 487 947-3383
5. 篠栗中学校 篠栗 4727 947-2516
6. 篠栗中学校 津波高 488 947-6575
7. フライエイト 篠栗 471-1 948-2222
8. オアシス 篠栗 801-1 947-8888
9. 篠栗社会体育館 津波高 488 947-7800
10. 合併 50 周年記念体育館 篠栗 4755 947-1760
11. 前野体育館 篠栗 881-1 947-3295
12. 篠栗社会教育センター 金田 3350-2 947-3511

凡例

- 避難地
- 指定緊急避難場所
- 指定避難所
- 臨時ヘリポート
- 夜間避難
- 医療機関
- 土砂災害警戒区域
- 危険箇所
- 土石流
- 地すべり
- 緊急時の連絡先



私たちの安心・安全と地図との関係



このような場所に位置する、福岡県教育センターやその周辺地域では、どのような自然災害が発生する可能性があるでしょう？
考えた人は、パソコンをクリックしてください。



私たちの安心・安全と地図との関係

下の問題にチャレンジしてみよう！

万里さんは、右の地図をもとに、家を建てるならどこがいいかを文章にまとめた。これらの地図や文章をもとに、万里さんが家を建てたい場所として考えられる最も適切な場所は、地図中のア～エのうちどれか、一つ選び、記号で答えなさい。

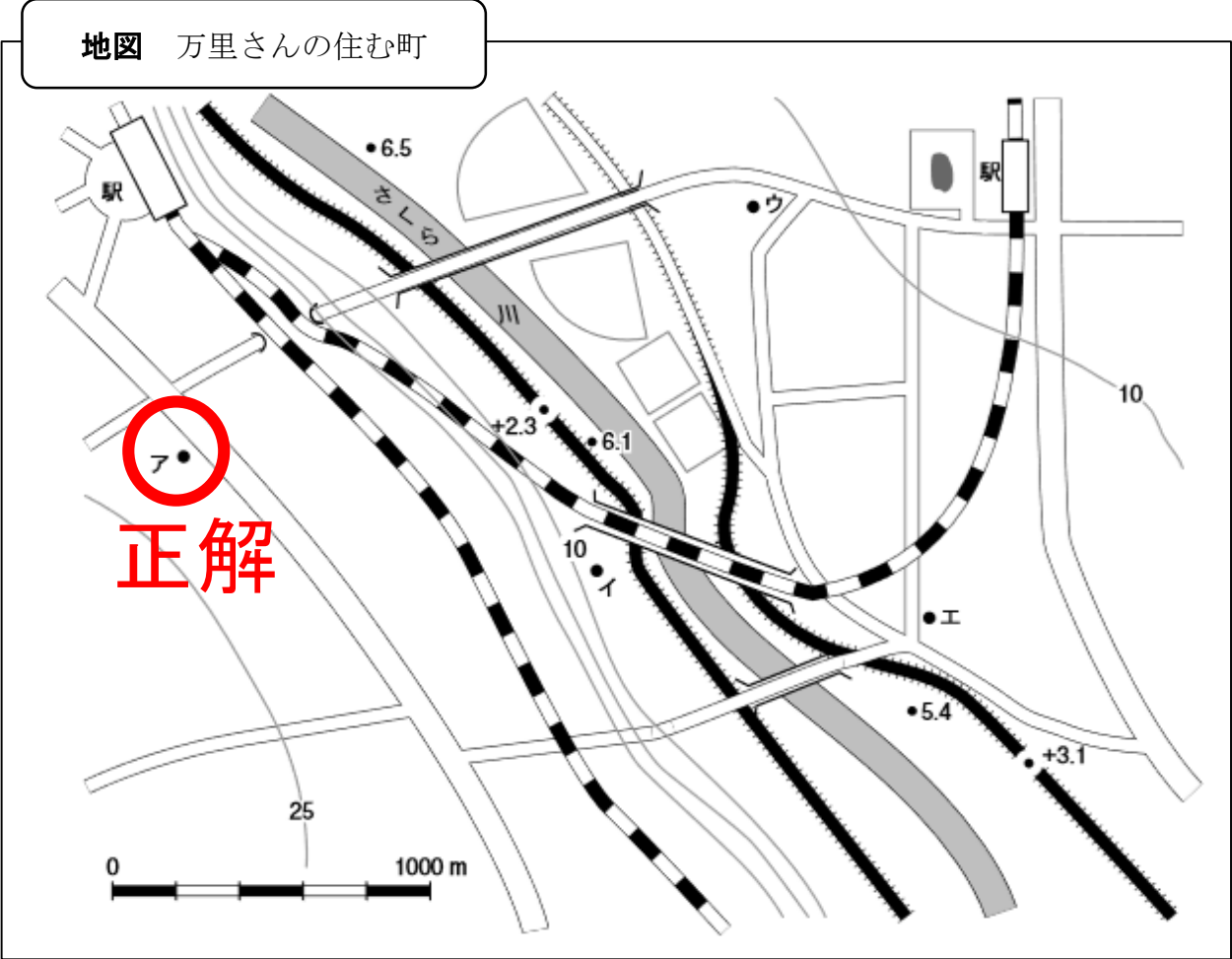
文章

この場所は、鉄道の駅から直線距離で1 km以内にあり、通勤や生活に便利です。

また、標高が河川の周りの堤防よりも高いところだから、大雨が降って河川が氾濫しても、洪水や浸水の可能性が低く、安心だと考えられます。



正解を確認した人は、解説をします。パソコンをクリックしてください。



平成28年度 就学義務猶予免除者等の中学校卒業程度認定試験 改題

私たちの安心・安全と地図との関係

問題の解説

万里さんは、右の地図をもとに、家を建てるならどこがいいかを文章にまとめた。これらの地図や文章をもとに、万里さんが家を建てたい場所として考えられる最も適切な場所は、地図中のア～エのうちどれか、一つ選び、記号で答えなさい。

文章

この場所は、鉄道の駅から直線距離で1 km以内にあり、通勤や生活に便利です。

①

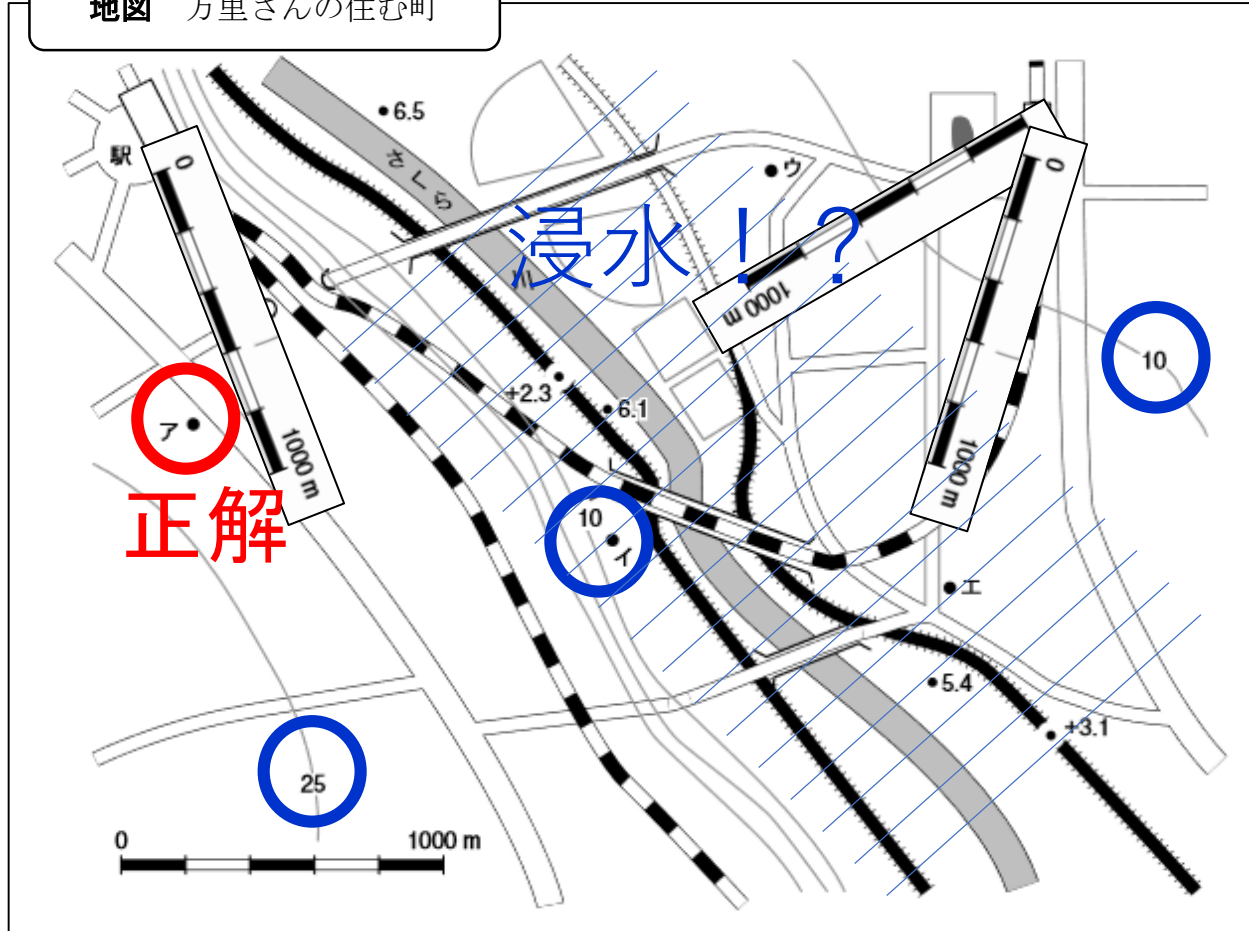
また、標高が河川の周りの堤防よりも高いところだから、大雨が降って河川が

氾濫しても、洪水や浸水の可能性が低く、安心だと考えられます。

②

これらから、洪水や浸水から身を守れる可能性が最も高い場所は、「ア」とわかります。では、最後のパソコンクリック！

地図 万里さんの住む町



平成28年度 就学義務猶予免除者等の中学校卒業程度認定試験 改題



読み取り、使おう！地図の情報

地図は生活を豊かにする道具です。今度はみなさんの住む地域の様子などを、ぜひ調べてみてください。

